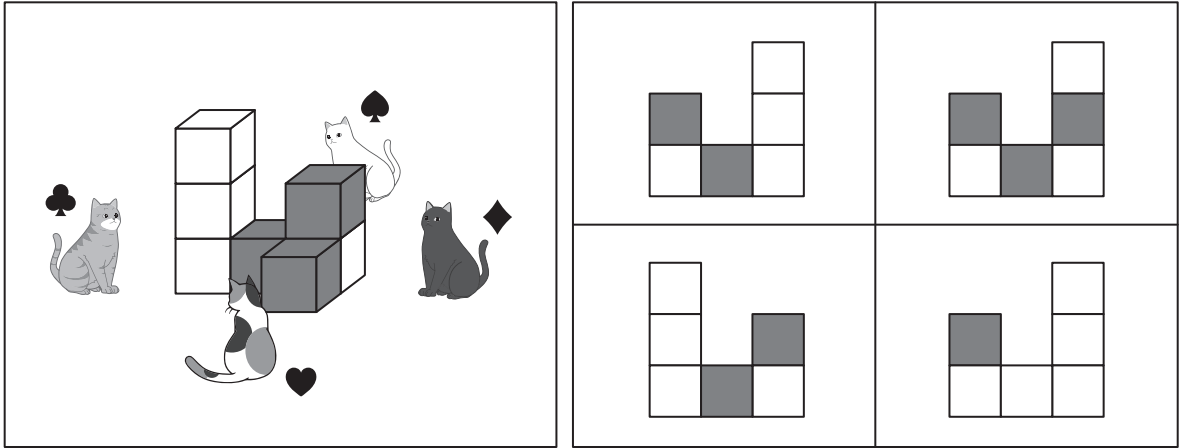
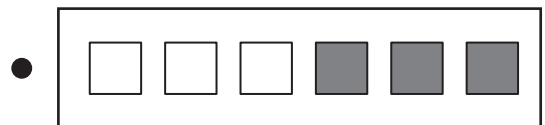
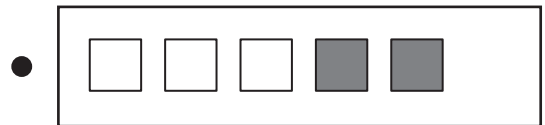
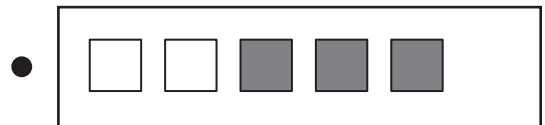
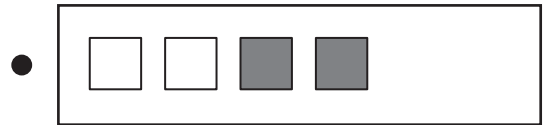

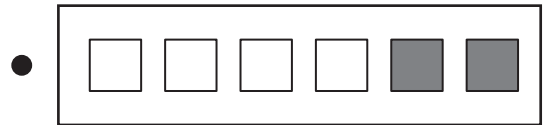

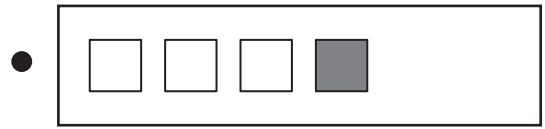



■入試準備問題【推理③】

問題文 積んである積み木をネコたちが見ています。スペードのマークのネコから見た積み木に○をつけましょう。



問題文 上の積み木をそれぞれのネコから見ると、何色の積み木がいくつずつ見えますか。その数だけある絵とマークを線で結びましょう。線を引くときは、黒い点と点を結びましょう。ただし、右側はつながらないものもあります。



■答え

(上)左 (下)クローバー→1番上 スペード→上から2番目 ダイヤ→上から3番目 ハート→1番下