
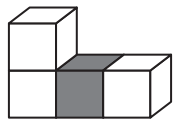

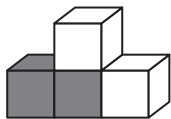

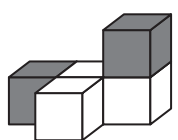

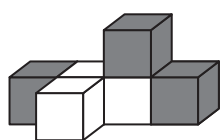

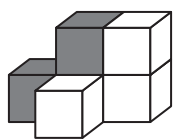

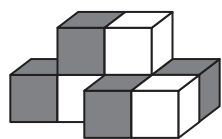



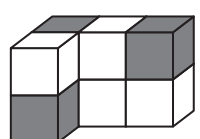

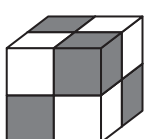
■入試準備問題【数量③】

問題文 ゾウとウサギは白と灰色の積み木を使って、それぞれの形を作りました。2匹の使った積み木の数を合わせると、白の積み木と灰色の積み木はいくつずつになりますか。その数だけ右の四角の中に○をかきましよう。ただし、見えない部分の積み木はすべて白が使われています。

 	 	<input type="checkbox"/> <input type="checkbox"/>
--	--	--

 	 	<input type="checkbox"/> <input type="checkbox"/>
--	--	--

 	 	<input type="checkbox"/> <input type="checkbox"/>
--	--	--

 	 	<input type="checkbox"/> <input type="checkbox"/>
--	--	--

■答え
 (上から○を) 5個・3個・6個・5個・8個 6・個・9個・7個