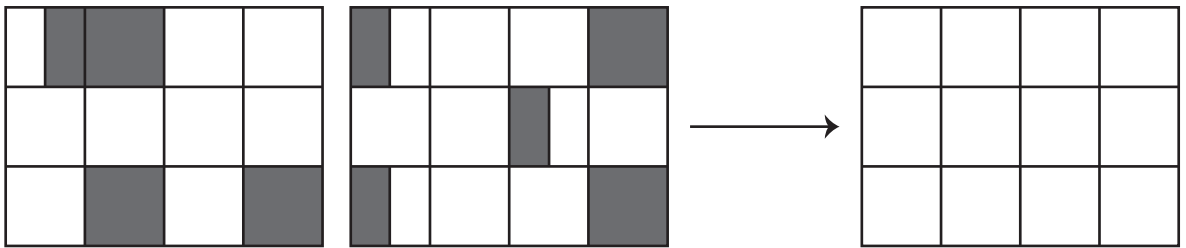
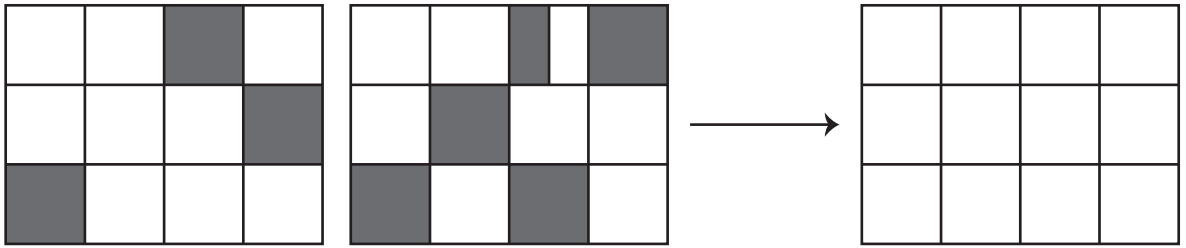
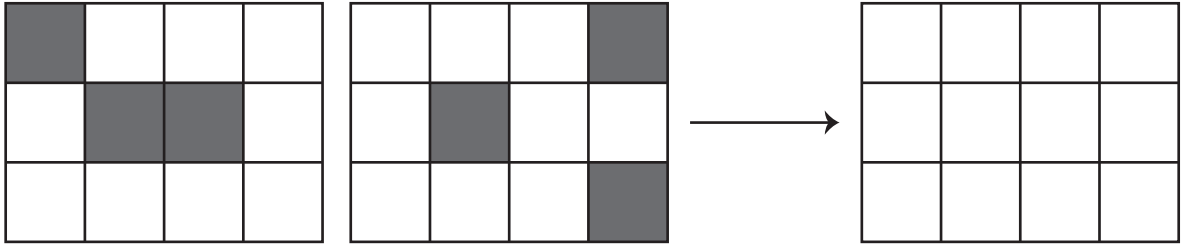
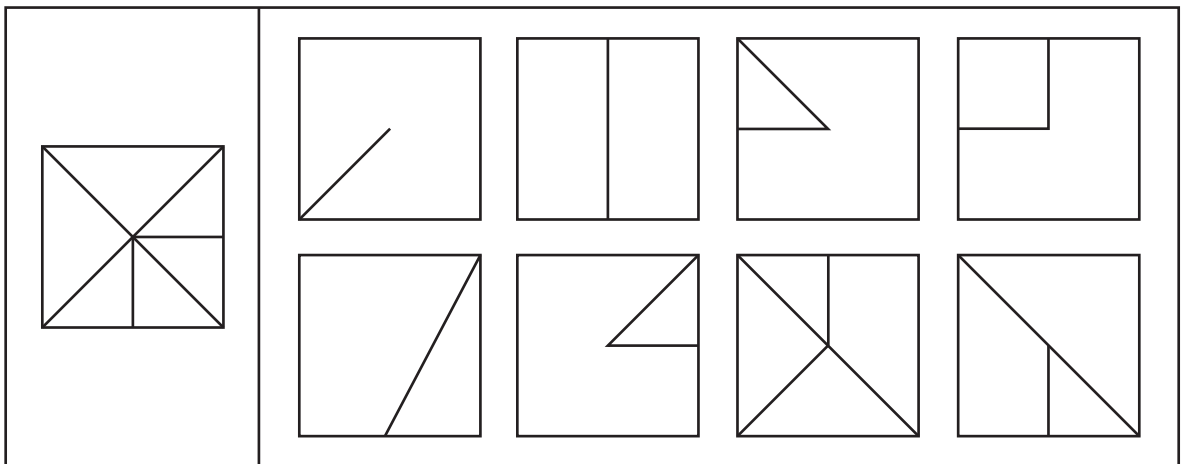


■入試準備問題【図形①】

問題文 左の2枚の形は透明な紙にかかれています。この2枚の形を回したり、裏返したりせずにそのままの向きでピッタリ重ねるとマスの中の模様はどのようにになりますか。右のマスの中の塗りましょう。



問題文 右の形の中から3つ選び、回したり裏返したりせずにそのままの向きで重ねて左のお手本の形を作ります。どの形を重ねればよいかを考えて、その形に○をつけましょう。



■答え

(上)



(下) 上段1番左・下段1番右・下段左から2番目に○